

MINI-TEST DE MATH 6e ANNÉE

LECON #52 : FORMES ET ESPACES

(LES POLYGONES, LES SOLIDES ET L'AIRE)

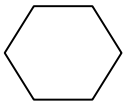


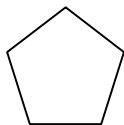
Nom : _____

Légende : 1 très satisfaisant 2 satisfaisant 3 réussit avec difficulté 4 éprouve beaucoup de difficulté	Ta note : Formes et espaces (#1,2,3,4) Mesure (#5) Signature :
--	--

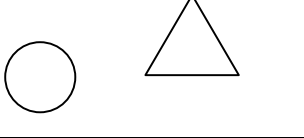
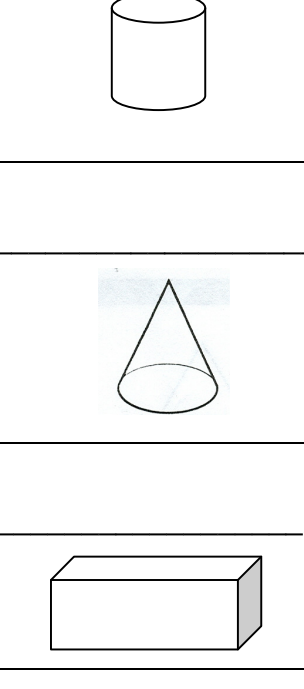
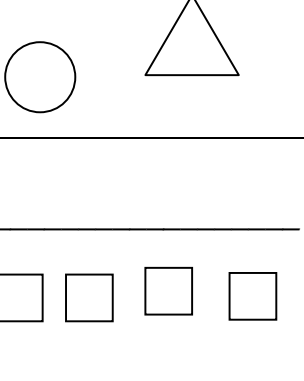
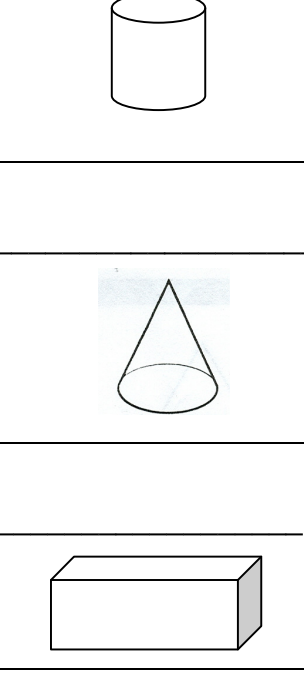
#1 Que suis-je?

- a) Je suis un polygone à 7 côtés _____
- b) Je suis un polygone à 3 côtés _____
- c) Je suis un polygone à 8 côtés _____



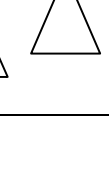
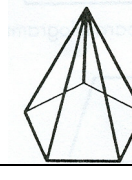
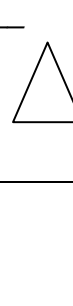

#2 Ecris le nom de ces polygones.

a) _____ 	b) _____ 
c) _____ 	d) _____ 

#3 Ecris le nom du solide que tu peux construire avec ces polygones.

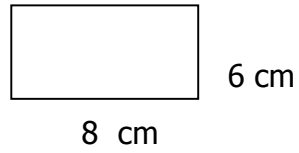
a) _____ 	b) _____ 
c) _____ 	d) _____ 

#4 Ecris le nom des solides suivants :

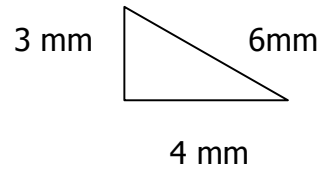
a) _____ 	b) _____ 
c) _____ 	d) _____ 
e) _____ 	f) _____ 

#5 Trouve l'aire des figures suivantes à l'aide de la bonne formule :

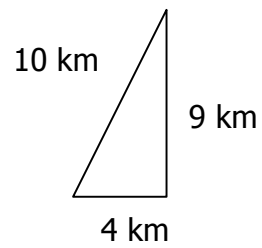
a) _____



b) _____



c) _____



d) _____

