

MINI-TEST DE MATH 6e ANNÉE
LECON #69 : MESURE (LES ANGLES)

Nom : _____

Légende : 1 très satisfaisant 2 satisfaisant 3 réussit avec difficulté 4 éprouve beaucoup de difficulté	Ta note : Signature :
---------------------------------------------------------------------------------------------------------------------	------------------------------

#1 Ecris la lettre qui correspond au numéro.

- | | |
|-------------------------|------------------------------------------------|
| _____ 1) Angle rentrant | a) mesure 360° |
| _____ 2) Angle plat | b) mesure 180° |
| _____ 3) Angle plein | c) mesure entre 180° et 360° |

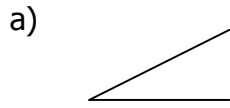
#2 Dessine l'angle demandé et décris-le.

a) un angle droit
dessin : _____ description : _____

b) un angle obtus
dessin : _____ description : _____

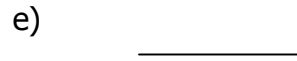
c) un angle aigu
dessin : _____ description : _____

#3 Mesure en degrés les angles suivants et écris le nom de chaque angle.




mesure : _____

nom : _____



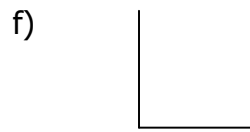
mesure : _____

nom : _____



mesure : _____

nom : _____



mesure : _____

nom : _____



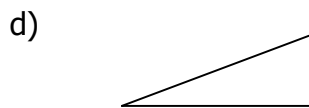
mesure : _____

nom : _____



mesure : _____

nom : _____



mesure : _____

nom : _____



mesure : _____

nom : _____