

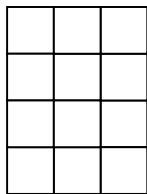
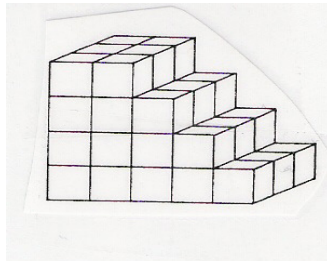
MINI-TEST DE MATH 6e ANNÉE

LECON #71 : FORMES ET ESPACES (Constructions de cubes)

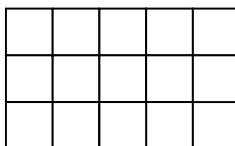
Nom : _____

Légende : 1 très satisfaisant 2 satisfaisant 3 réussit avec difficulté 4 éprouve beaucoup de difficulté	Ta note : Signature :
--	--


#1 Voici une figure :



A



B



C

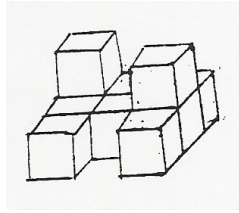
Parmi les représentations visuelles ci-dessus A B et C, laquelle a été prise...

a) de la vue de droite? _____


b) de la vue de dessous? _____

c) de la vue de face? _____


#2 Dessine les représentations visuelles du polyèdre ci-contre.




Vue de dessus :




Vue de dessous :




Vue de gauche :



Vue de droite :

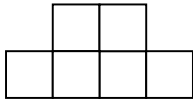


Vue de face :

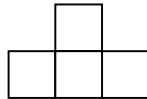


#3 Voici des représentations visuelles de différentes vues. Erige ton polyèdre à l'aide des blocs centicubes. Montre-moi ta construction.

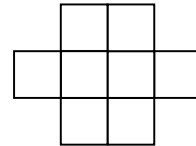
Vue de face



Vue de côté droit



Vue de dessus



d'essais :

Bon succès! ☺ Nathalie Daigle-Roy