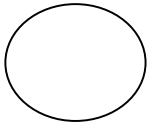


résultat :




Line Aubé 07-08

Nom : _____

Évaluation addition et soustraction
Janvier

Compte le nombre d'objets. Combien y en a-t-il en tout? Écris ta réponse dans la case de droite.



Fais les additions. Utilise les jetons pour t'aider.

a) $4 + 5 =$ _____

b) $6 + 2 =$ _____


c) $9 + 3 =$ _____

d) $13 + 6 =$ _____

e) $11 + 4 =$ _____

f) $0 + 17 =$ _____

Utilise des jetons pour résoudre les problèmes suivants.



Fais les soustractions suivantes. Utilise les jetons pour t`aider.

a) $10 - 2 = \underline{\quad}$

d) $18 - 4 = \underline{\quad}$

b) $6 - 5 = \underline{\quad}$

e) $8 - 7 = \underline{\quad}$

c) $12 - 6 = \underline{\quad}$

f) $15 - 0 = \underline{\quad}$

Bon succès! ☺